

Bitki Yetiştirelim, hayvan Besleyelim

1) Aşağıdakilerden hangisi yanlıştır?

- A) Ormanlar birçok hayvanın ve bitkinin yaşam alanıdır.
- B) Kesilen ağaçların yerine yenilerini dikmemiz gerekir.
- C) Hayvanlar doğanın bir parçası değildir.


2) Aşağıdakilerden hangisi sokak hayvanları için yapılması gereken bir davranış değildir?

- A) Sokak hayvanlarının beslenmelerine yardımcı olmak.
- B) Sokak hayvanlarını görmezden gelmek.
- C) Sokak hayvanlarının barınmalarına yardımcı olmak.

3) Aşağıdaki hayvanlardan hangisinin insanlar tarafından bakımı ve beslenmesi mümkündür?



A)





B)



C)

4)  sakı

 tohum

 toprak

Yukarıdakilerden hangisi bitki yetiştirmek için gerekli değildir?

A) B) C) 

5) Aşağıdakilerden hangisi bitkilerin yararlarından değildir?

- A) Havayı temizlemek.
- B) Doğayı güzelleştirmek.
- C) Suyu kirletmek.

6) Aşağıdakilerden hangisi yanlıştır?

- A) Bitkiler besin kaynağıdır.
- B) Bitkiler doğayı kirletir.
- C) Meyve ve sebzeleri bitkilerden sağlarız.

7) Aşağıdaki hayvanlardan hangisi evcilleştirilebilir?




- A) zürafa
- B) kurt
- C) kedi

8) Aşağıdakilerden hangisi doğaya katkı sağlar?


- A) ağaç dikmek
- B) piknik yapmak
- C) ormanda dolaşmak





9) Ormanlar hakkında aşağıdaki bilgilerden hangisi yanlıştır?

- A) Havayı temizler.
- B) Hayvanlara yaşam alanı sağlar.
- C) Suyu ve çevreyi kirletir.

- 10)  Beslenme ihtiyacımızı karşılar.
 Giyinme ihtiyacımızı karşılar
 Havayı temizler.

Yukarıdaki maddelerden hangisi sadece bitkilere ait bir özelliktir?

- A)  B)  C) 

- 11)   tavuk
 kedi
 köpek
- Yanda verilen hayvanların ortak özelliği aşağıdakilerden hangisidir?

- A) ormanda yaşamaları
- B) evcil olmaları
- C) ot ile beslenmeleri

12) Aşağıdakilerden hangisi bitkileri korumak için yapılması gereken bir davranış değildir?

- A) sulama yapmak
- B) topraklarını havalandırmak
- C) yapraklarını koparmak

- 13) 1. Dibine su dökülür.
2. Fidan dik bir şekilde yerleştirilir.
3. Toprak kazılarak bir çukur açılır.
4. Çukurda kalan boşluklar doldurulur.

Yukarıda karışık olarak verilen fidan dikme aşamaları nasıl sıralanmalıdır?

- A) 3-2-4-1
- B) 1-4-2-3
- C) 4-2-1-3

- 14) 1-Kurt-Vahşi hayvan
2-Kedi-Evcil hayvan
3-Koyun-Yabani hayvan

Yukarıdaki eşleştirmelerden hangisi yanlıştır?

- A) 1 B) 3 C) 2

15) Aşağıdakilerden hangisi hem hayvan hemde bitkiler için gereklidir?

- A) yem
- B) toprak
- C) su